

ΑΡΙΘΜΟΙ ΜΕ ΧΡΙ ΤΟ 100

Όνομα: _____ Τάξη: _____

1.

Φιγαράκι, μπορείς να γράψεις τους αριθμούς δίπλα από τις λέξεις;



πενήντα πέντε: _____ δεκαοκτώ: _____

εξήντα τέσσερα: _____ τριάντα επτά: _____

εβδομήντα επτά: _____ σαράντα έξι: _____

ογδόντα εννιά: _____ εκατό: _____

ενενήντα τρία: _____ ενενήντα οκτώ: _____

είκοσι τρία: _____ εβδομήντα ένα: _____

2.



Γράψε τις δεκάδες:

πενήντα: 5 Δ δέκα: _____

εξήντα: _____ τριάντα: _____

εβδομήντα: _____ σαράντα: _____


ογδόντα: _____ εκατό: _____

ενενήντα: _____ ενενήντα: _____


είκοσι: _____ εβδομήντα: _____

3.

Βοήθησέ με να χρωματίσω όσα
τετράγωνα γέει ο αριθμός.




45



62

4.



Και τώρα... κάτι πιο δύσκολο!!!
Μπορείς να βρεις τους αριθμούς
που ψάχνω;

- Έχει 9 δεκάδες και 9 μονάδες: _____
- Έχει 5 δεκάδες και 1 μονάδα: _____
- Έχει 10 δεκάδες: _____
- Έχει 2 δεκάδες: _____
- Έχει 8 μονάδες και 3 δεκάδες: _____