



ΔΗΜΟΤΙΚΟ ΣΧΟΛΕΙΟ




Όνομα: _____ Τάξη: _____

Μοτίβο πολλαπλασιασμού του 4

1. Κάνε ένα σχέδιο που να ταιριάζει στην κάθε μαθηματική πρόταση.

$3 \times 4 =$	$6 \times 4 =$	$1 \times 4 =$
$7 \times 4 =$	$9 \times 4 =$	$8 \times 4 =$

2. Γράψε τις δύο μαθηματικές προτάσεις που ταιριάζουν σε κάθε σχέδιο (μια πολλαπλασιασμού και μία πρόσθεσης).

		
_____ _____	_____ _____	_____ _____



1. Σχεδιάσε τις τετράδες που μπορεί να σχηματίσει ο κάθε αριθμός:

12	28	20
-----------	-----------	-----------

4. Γράψε τώρα το μοτίβο πολλαπλασιασμού του 4. Να θυμάσαι: Κάθε φορά προσθέτεις ακόμα 4 στο προηγούμενο γινόμενο.

$0 \times 4 =$	$6 \times 4 =$
$1 \times 4 =$	$7 \times 4 =$
$2 \times 4 =$	$8 \times 4 =$
$3 \times 4 =$	$9 \times 4 =$
$4 \times 4 =$	$10 \times 4 =$
$5 \times 4 =$	ΜΑΘΕ ΤΟ ΚΑΛΑ ΑΠ' ΕΞΩ



5. Γράψε τις άλλες τρεις μαθηματικές προτάσεις όπως το παράδειγμα:

$2 \times 4 = 8$	$5 \times 4 =$	$8 \times 4 =$	$3 \times 4 =$	$7 \times 4 =$
$2 \times 4 = 8$				
$8 : 2 = 4$				
$8 : 4 = 2$				