



ΜΑΘΗΜΑΤΙΚΑ Β' ΤΑΞΗΣ

ΕΝΟΤΗΤΑ 4η

25β. ΒΡΙΣΚΩ ΤΗΝ ΠΡΟΠΑΙΔΕΙΑ ΤΟΥ 4





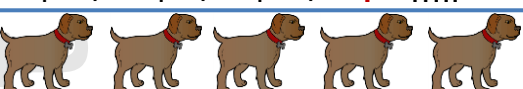


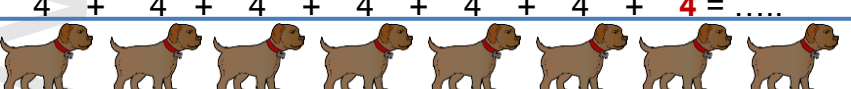


© stintaxi.com


ΟΝΟΜΑ:.....



1 Μπορείς να συμπληρώσεις τα κενά μπαλόνια με τους διητάσιους αριθμούς;

2 Πόσα πόδια έχει κάθε σκυλάκι; Πόσα πόδια έχουν όλα τα σκυλάκια σε κάθε περίπτωση; Υπολόγισε με πρόσθεση και με πολλαπλασιασμό:

 4	$1 \times 4 = 4$
 $4 + 4 = \dots$	$2 \times 4 = 8$
 $4 + 4 + 4 = \dots$	$3 \times 4 = \dots$
 $4 + 4 + 4 + 4 = \dots$	$\dots \times 4 = \dots$
 $4 + 4 + 4 + 4 + 4 = \dots$	$\dots \times 4 = \dots$
 $4 + 4 + 4 + 4 + 4 + 4 = \dots$	$\dots \times 4 = \dots$
 $4 + 4 + 4 + 4 + 4 + 4 + 4 = \dots$	$\dots \times 4 = \dots$
 $4 + 4 + 4 + 4 + 4 + 4 + 4 + 4 = \dots$	$\dots \times 4 = \dots$
 $4 + 4 + 4 + 4 + 4 + 4 + 4 + 4 + 4 = \dots$	$\dots \times 4 = \dots$
 $4 + 4 + 4 + 4 + 4 + 4 + 4 + 4 + 4 + 4 = \dots$	$10 \times 4 = \dots$



Σε κάθε συσκευασία υπάρχουν 4 σοκολάτες. Μπορείς να βρεις πόσες είναι όλες μαζί οι σοκολάτες σε κάθε ομάδα; Υπολόγισε με δύο τρόπους:



.....



ή αλλιώς: x =

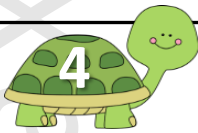


.....



.....

ή αλλιώς: x =

ή αλλιώς: x =




Πόσα παράθυρα υπάρχουν στα σπίτια κάθε γειτονιάς; Υπολόγισε μόνο με πολλαπλασιασμό:



..... x =

..... x =



Τι ταιριάζει σε κάθε στήλη; Προσπάθησε να κάνεις τις σωστές αντιστοιχίες:

4 + 4 + 4 + 4 + 4 + 4 • • 3 x 4 • • 12


4 + 4 + 4 • • 6 x 4 • • 24

4 + 4 + 4 + 4 + 4 + 4 + 4 + 4 + 4 + 4 • • 4 x 4 • • 16


4 + 4 + 4 + 4 • • 8 x 4 • • 32

4 + 4 + 4 + 4 + 4 + 4 + 4 + 4 + 4 • • 10 x 4 • • 40





Πόσες μπανάνες υπάρχουν σε κάθε περίπτωση. Μπορείς να βρεις ποια είναι κάθε φορά η σωστή απάντηση; Βάλε \checkmark στο σωστό κουτάκι και έπειτα βρες και πόσες είναι όλες οι μπανάνες:



4×3

$8 + 8$

$4 + 5$

3×4

8×4

5×4

$4 + 4$


4×8

$5 + 5$

Όλες οι μπανάνες είναι

Όλες οι μπανάνες είναι

Όλες οι μπανάνες είναι

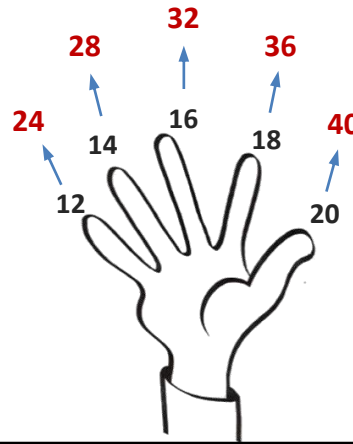
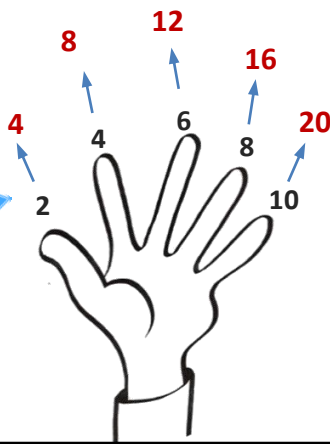


Θυμάσαι πώς υπολογίζουμε με τα δάχτυλα την προπαίδεια του 2; Δες έναν εύκολο τρόπο να υπολογίζουμε και του 4. Έπειτα συμπλήρωσε τα κενά με τους σωστούς αριθμούς:

Για την προπαίδεια του 4, σκέψου πρώτα πόσο κάνει η αντίστοιχη του 2 και έπειτα διπλασίασε τον αριθμό



προπαίδεια του 4
προπαίδεια του 2



$5 \times 4 = \dots\dots$

$9 \times 4 = \dots\dots$

$2 \times 4 = \dots\dots$


$7 \times 4 = \dots\dots$

$4 \times 4 = \dots\dots$

$1 \times 4 = \dots\dots$



Στους αγώνες κωπηλασίας συμμετέχουν 6 ομάδες με 4 αθλητές η καθεμιά. Πόσοι είναι όλοι οι κωπηλάτες που συμμετέχουν στους αγώνες;



Εκτιμώ: Όλοι οι αθλητές είναι

Υπολογίζω:

Απαντώ: