

Επανάληψη Ενότητας 6



✚ Λύνω προσεκτικά τις πιο κάτω μαθηματικές προτάσεις:

$4 \times 2 = \dots$

$20 \div 5 = \dots$

$1 \times 6 = \dots$

$18 \div 9 = \dots$

$9 \times 10 = \dots$

$10 \div 2 = \dots$

$6 \times 2 = \dots$

$12 \div 2 = \dots$

$7 \times 5 = \dots$

$9 + 10 = \dots$

$6 + 6 = \dots$

$20 - 8 = \dots$

$8 + 7 = \dots$

$14 - 7 = \dots$

$10 + 2 = \dots$

$8 + 9 = \dots$

$2 \times 30 = \dots$

$40 \div 5 = \dots$

$10 \times 10 = \dots$

$100 \div 2 = \dots$

$0 \times 20 = \dots$

$70 \div 1 = \dots$

$100 \times 1 = \dots$

$4 \times 10 = \dots$

$20 + 70 = \dots$

$80 - 10 = \dots$

$30 + 5 = \dots$

$66 - 6 = \dots$

$30 + 0 = \dots$

$40 + 0 = \dots$

$80 - 0 = \dots$

$50 - 20 = \dots$

✚ Βρίσκω τον αριθμό που λείπει:

$6 \times \dots = 60$

$50 \div \dots = 50$

$\dots + 10 = 90$

$\dots \div 2 = 8$

$9 + \dots = 18$


$88 - \dots = 8$

$\dots \times 50 = 0$

$\dots - 10 = 2$

$2 \times \dots = 100$

$14 \div \dots = 7$



Όνοματεπώνυμο: Τάξη:

✚ Σκέφτομαι και βάζω (+), (-), (X) ή (÷) για να είναι σωστές οι μαθηματικές προτάσεις:

4 80 = 84

9 9 = 18

20 10 = 10

92 2 = 90

7 10 = 70

50 1 = 50

10 10 = 1

100 50 = 50

2 8 = 16

80 10 = 90



✚ Γράφω κάτω από τον κάθε αριθμό αν είναι ΑΡΤΙΟΣ ή ΠΕΡΙΤΤΟΣ:

62

24

11

78

93

31

8

49

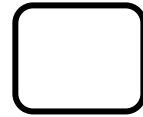




7

4

50

65

✚ Επιλέγω τα σχέδια που έχουν άξονα συμμετρίας και να τον δείχνω:



✚ Υπολογίζω το $\frac{1}{2}$ των πιο κάτω αριθμών:

Το $\frac{1}{2}$ του 14=

Το $\frac{1}{2}$ του 6=

Το $\frac{1}{2}$ του 100=

Το $\frac{1}{2}$ του 20=

Το $\frac{1}{2}$ του 40=

Το $\frac{1}{2}$ του 16=

Το $\frac{1}{2}$ του 8=


Το $\frac{1}{2}$ του 12=

Το $\frac{1}{2}$ του 60=





Το $\frac{1}{2}$ του 10=

Το $\frac{1}{2}$ του 18=


Το $\frac{1}{2}$ του 80=



✚ Η πιο κάτω γραφική παράσταση δείχνει πόσα παιδιά προτιμούν τα μήλα, τις μπανάνες, τα πορτοκάλια και τα αχλάδια:

ΜΗΛΑ	
ΜΠΑΝΑΝΕΣ	
ΠΟΡΤΟΚΑΛΙΑ	
ΑΧΛΑΔΙΑ	

Κάθε  αντιστοιχεί με 5 παιδιά



Α) Πόσα παιδιά προτιμούν τα μήλα;.....

Β) Πόσα παιδιά προτιμούν τις μπανάνες;.....

Γ) Πόσα παιδιά προτιμούν τα πορτοκάλια;.....

Δ) Πόσα παιδιά προτιμούν τα αχλάδια;.....

Ε) Πόσα περισσότερα παιδιά προτιμούν τις μπανάνες από τα μήλα;.....

Ζ) Πόσα λιγότερα παιδιά προτιμούν τα αχλάδια από τα πορτοκάλια;.....






Ώρα για πανεύκολα προβληματάκια!

1) Στη φάρμα του ο παππούς μου μοίρασε τις 30 κότες του σε 5 κοτέτσια.

Πόσες κότες έβαλε στο κάθε κοτέτσι;

Μαθηματική Πρόταση:

Απάντηση:



2) Ο Ντίλον είχε στον κουμπαρά του 68 σεντ. Αγόρασε ένα σβηστήρι που

στοίχιζε 8 σεντ. Πόσα χρήματα έχει τώρα στον κουμπαρά

του ο Ντίλον;

Μαθηματική Πρόταση:

Απάντηση:



3) Η Άννα έχει στο πορτοφόλι της 2 χαρτονομίσματα. Ένα των 20 ευρώ

και ένα των 50 ευρώ. Πόσα χρήματα έχει συνολικά η Άννα;

Μαθηματική Πρόταση:

Απάντηση:



4) Ο Φοίβος έχει στο πορτοφόλι του 8 κέρματα της ίδιας αξίας. Όλα τα χρήματα του Φοίβου είναι 80 σεντ. Ποια είναι η αξία των κερμάτων του Φοίβου;

Μαθηματική Πρόταση:

Απάντηση:



5) Ο Σπύρος έβαλε τα στρατιωτάκια του σε 9 σειρές. Σε κάθε σειρά έβαλε 5 στρατιωτάκια. Πόσα είναι όλα του τα στρατιωτάκια;


Μαθηματική Πρόταση:

Απάντηση:



➤ Βρες τον κρυμμένο αριθμό:

- ✿ Είναι μεγαλύτερος από το 20
- ✿ Είναι μικρότερος από το 40
- ✿ Είναι άρτιος - ζυγός αριθμός
- ✿ Βρίσκω τον αριθμό αυτό όταν μετρήσω 10 - 10



Ωρα για ξεκούραση και παιχνίδι!!!