







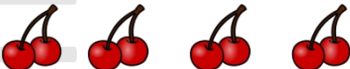




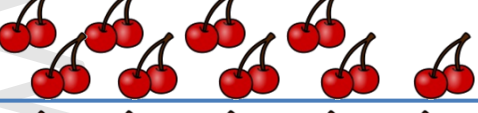

ΟΝΟΜΑ:.....




 Μπορείς να συμπληρώσεις τους αριθμούς στα μπαλόνια των παιδιών;



 Μιμ! Λαχταριστά κερασάκια! Μπορείς να βρεις πόσα είναι σε κάθε περίπτωση; Υπολόγισε με πρόσθεση και με πολλαπλασιασμό:

	$2$	$1 \times 2 = 2$
	$2 + 2 = 4$	$2 \times 2 = 4$
	$2 + 2 + 2 = \dots$	$3 \times 2 = \dots$
	$2 + 2 + 2 + 2 = \dots$	$\dots \times 2 = \dots$
	$2 + 2 + 2 + 2 + 2 = \dots$	$\dots \times 2 = \dots$
	$2 + 2 + 2 + 2 + 2 + 2 = \dots$	$\dots \times 2 = \dots$
	$2 + 2 + 2 + 2 + 2 + 2 + 2 = \dots$	$\dots \times 2 = \dots$
	$2 + 2 + 2 + 2 + 2 + 2 + 2 + 2 = \dots$	$\dots \times 2 = \dots$
	$2 + 2 + 2 + 2 + 2 + 2 + 2 + 2 + 2 = \dots$	$\dots \times 2 = \dots$
	$2 + 2 + 2 + 2 + 2 + 2 + 2 + 2 + 2 + 2 = \dots$	$10 \times 2 = \dots$



Πόσα χρήματα υπάρχουν σε κάθε πακέτο; Υπολόγισε με δύο τρόπους:



.....

ή αλλιώς: ..... x ..... = .....



.....

ή αλλιώς: ..... x ..... = .....



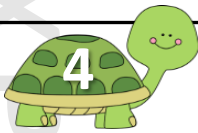
.....

ή αλλιώς: ..... x ..... = .....



.....

ή αλλιώς: ..... x ..... = .....



Πόσα χρήματα υπάρχουν σε κάθε πακέτο; Υπολόγισε μόνο με πολλαπλασιασμό:



..... x ..... = .....




..... x ..... = .....



..... x ..... = .....



..... x ..... = .....



Τι ταιριάζει σε κάθε στήλη; Προσπάθησε να κάνεις τις σωστές αντιστοιχίσεις:

2 + 2 + 2 + 2 + 2   •   •   2 x 2   •   •   10


2 + 2   •   •   5 x 2   •   •   2

2 + 2 + 2 + 2 + 2 + 2 + 2 + 2 + 2   •   •   1 x 2   •   •   18

2   •   •   9 x 2   •   •   6

2 + 2 + 2   •   •   3 x 2   •   •   4





Πόσες κάλτσες υπάρχουν σε κάθε περίπτωση. Μπορείς να βρεις ποια είναι κάθε φορά η σωστή απάντηση; Βάλε  $\checkmark$  στο σωστό κουτάκι και έπειτα βρες και πόσες είναι όλες οι κάλτσες:



$2 + 2$

$2 \times 3$

$6 \times 2$

$5 \times 2$

$3 + 3$

$6 + 2$

$2 \times 5$


$3 \times 2$

$2 \times 6$

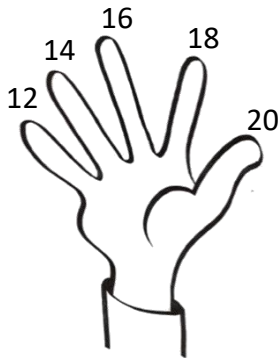
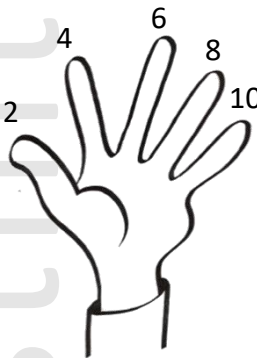
Όλες οι κάλτσες είναι .....

Όλες οι κάλτσες είναι .....

Όλες οι κάλτσες είναι .....



Λες πώς μπορείς εύκολα να υπολογίζεις την προπαίδεια του 2 χρησιμοποιώντας τα δάχτυλά σου. Έπειτα συμπλήρωσε τα κενά με τους σωστούς αριθμούς:



$10 \times 2 = \dots\dots$


$4 \times 2 = \dots\dots$

$8 \times 2 = \dots\dots$

$6 \times 2 = \dots\dots$

$3 \times 2 = \dots\dots$

$7 \times 2 = \dots\dots$



Εφτά φίλοι θα πάνε σε χιονοδρομικό κέντρο. Γι' αυτό αγόρασαν από ένα ζευγάρι γάντια για τα χέρια τους. Μπορείς να βρεις πόσα γάντια αγόρασαν συνολικά;



Εκτιμώ: Αγόρασαν ..... γάντια.

Υπολογίζω:

Απαντώ: .....

.....